

■ přídavná jména: **tvrdá**

Doplň **i/í - y/ý**.

za úspěšným__ závodnicemi
k strm__m svahům
v mal__ch botách
sebevědom__ mladíci
se slab__mi dráty
stěhovav__ ptáci
na dlouhodob__ pobyt
s obl__m tvarem

vítáme vás, mil__ hosté!



vychladl__ koláč
podnikav__ hoši
s neznám__mi dětmi
mezi dospělým__ lidmi
má skvěl__ život
jsou to zvědav__ kluci
s laskav__mi slovy
moji draz__ přátelé!
o soukrom__ch plánech
vedle kolm__ch stěn
oba netrpěliv__ uchazeči

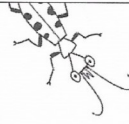
20



■ přídavná jména: **tvrdá**

Doplň **i/í - y/ý**.

proti neznám__m pachatelům
mil__ návštěvníci!
mil__ návštěvníku!
po toulav__ch kocourech
mezi hravým__ lvíčaty
rychl__ běžci
obvykl__ postup
živ__ trosečníci




o širokoúhl__ch filmech
u čil__ch králíčků
sádrov__ trpaslíci
na odlehl__ch místech
neznám__ hrdinové
za cílevědom__m studentem
s plav__mi vlasy
zásadov__ kolegové
u vzrostl__ch stromů
pod žhav__m popelem
se salátovým__ mísami
v pohotov__ch odpovědích
vesel__ klauni
s vepřov__m masem

22



trhav__ obraz
hrav__ kocourci
zavil__ (zatvrzel__) nepřátelé
s cenným__ připomínkami
ve výtahov__ch šachtách
pod ledovým__ zábaly
se zl__m úmyslem
mezi játrov__mi knedlíčky
opil__ lidé
smyčcov__ orchestr
v tmav__ch barvách
drav__ ptáci
v sametov__ch šatech
mezi prav__mi hříby
na slovo skoup__ úředníci
pro novinov__ články
z namáhav__ch činností
s lákavým__ jidly
zdvořil__ sousedé
přím__ let
pečliv__ lékaři
pečliv__ lékař

23



2. SKLOŇOVÁNÍ PŘÍDAVNÝCH JMEN TVRDÝCH

1. Napište přídavná jména v daném pádu, čísle a rodu.

nový (p. 2., č. j., r. m.) _____ zdravá (p. 1., č. mn., r. ž.) _____
malé (p. 6., č. j., r. s.) _____ velký (p. 4., č. mn., r. m. živ.) _____
mladý (p. 3., č. mn., r. m.) _____ bílá (p. 7., č. j., r. ž.) _____
dřevěný (p. 1., č. mn., r. m. neživ.) _____ hladové (p. 4., č. mn., r. s.) _____

2. Slova v závorce napište ve správném tvaru.

Horolezci se (vysoký) _____ skal nebojí. Do (lipový) _____ čaje přidej lžičku medu.
Princ bojoval s (tříhlavý) _____ drakem. Kolik máš (opravdový) _____ přátel?
Na charitativním koncertě vystoupí (známý) _____ zpěváci. Miloš má rád (sýrový) _____ chlebičky.
Ve (smrkový) _____ lesích roste hodně hub. (Hravý) _____ štěňata skotačila na trávníku.
Hyena skvrnitá patří mezi (dravý) _____ šelmy.

3. Napište v 1. pádu čísla množného.

veselý chlapec – _____ objemný balík – _____
rychlý běžec – _____ milá dívka – _____
drzý žák – _____ poctivý řemeslník – _____
osamělé zvíře – _____ střídmy člověk – _____

4. Napište v 7. pádu čísla množného.

nová spolužačka – _____ ospalé dítě – _____
cihlový dům – _____ šípkový keř – _____
lakomý strýc – _____ trpělivý učitel – _____
těžké kladivo – _____ obrázková kniha – _____

5. Doplňte vynechaná písmena v koncovkách přídavných jmen.

Pomal_ hlemýždi, s hloup_m lidmi, přívětiv_ prodavačky, o stěhovav_ch ptácích, pyšn_pávi,
zapomnětliv_m žákům, s hokejov_m fanoušky, skvěl_ zážitky, živ_ kapři, poctiv_ obchodníci,
spravedliv_ trest, deštiv_ den, hlávkov_ salát, slep_ lidé, s vesel_m klauny.

6. Z uvedených podstatných jmen tvořte přídavná jména. Doplňte k nim vhodné podstatné jméno.

Vzor: mandle – mandlový dort

víno – _____ píle – _____
kámen – _____ bylina – _____
stín – _____ hlína – _____

7. Diktát.

Domýšlivý člověk, rychlý šíp, deštivým dnům, draví ptáci, kávový krém, s napínavými příběhy, makový koláč, s novými časopisy, rozkvetlý šípkový keř, štíhlí atleti, neznámí cizinci, o bezhlavých rytířích, nedoslýchaví stařečci, milí přátelé, dospělí lidé, vytrvalým běžcům.

1. Vypočítej a výsledek zakresli do obrázků.

1,5 + 0,5 =

0,3 + 0,7 =

2. Kolik máme eur? 1 euro je 100 centů.



.....

Kolik máme korun?



.....

3. Doplň do hvězdiček správná čísla.

2,3 + 48 → * + 2,3 → * + 5 → * + 3,1 → * + 4 → * + 0,7 → *

+ 5,2 → * + 9,8 → * + 2,4 → * + 2,3 → * + 2,1 → *

4. Doplň čísla do obrácené pyramidy. Číslo v pyramidě je součtem čísel nad ním.

7,5	8,7	9,7	10,8	5	13,5
_____		_____		_____	
_____			_____		

5. Zaškrtni správnou odpověď.

Vždy sčítáme desetiny s desetinami, setiny se setinami, atd.

ANO	NE
<input type="checkbox"/>	<input type="checkbox"/>
<input type="checkbox"/>	<input type="checkbox"/>
<input type="checkbox"/>	<input type="checkbox"/>
<input type="checkbox"/>	<input type="checkbox"/>

Při písemném sčítání **ne**musíme dodržovat psaní číslic stejných řádů pod sebou.

Při sčítání desetinných čísel **ne**píšeme desetinnou čárku ve sčítancích.

I když připišeme za poslední desetinné místo libovolný počet nul, hodnota čísla zůstane stejná.

6. Zapiš správně pod sebe a vypočítej.

2,4 + 3,1	12,13 + 14,56	2,45 + 3,41

7,5 + 1,3	5,16 + 0,08	123,01 + 36,5

8,1 + 19,6	62,09 + 5,34	11,8 + 6,1

10 Podle popisu poznej živočicha a najdi ho na fotografiích. Dopiš jeho název.

Jsem tažný pták, často si stavím hnízda na komínech. Rád si pochutnám na žábách a různém hmyzu.



Patřím k savcům, i když mám křídla. Létám hlavně za soumraku, kdy lovím hmyz. Bydlím v různých štěrbinách, občas mě najdete i za okenicí.



Patřím mezi bezobratlé živočichy. Moje hnízdo se skládá z plástů. V něm jediná královna klade vajíčka, o její oplození se starají trubci, dělnice zajišťují celý provoz našeho domova.



Zahraj si se spolužáky hru: Mysli si konkrétního živočicha, spolužáci se budou snažit otázkami zjistit, o jakého živočicha jde. Můžeš odpovídat jen ano/ne. Vystřídejte se mezi sebou.

11 Vyřeš přesmyčky (bezobratlí živočichové v lese a na poli) a urči ekosystém, ve kterém živočichové žijí. Fotografie ti napoví.

Návod na řešení:

Změň pořadí jednotlivých písmen.

UTOŽÝLKRO



NEERAMCV



LKVŘEÍST





ANMEDIAKLN



SURCHOT



KAETSŘÍ



12 Zakroužkuj všechny správné odpovědi: Les je domovem.....

1. Mechové patro v lese tvoří	M mechy	L keře	N houby
2. Hrách a sója jsou	T obilniny	Z pícniny	O luskoviny
3. Přeslička lesní je	A keř	H bylina	S strom
4. Mezi okopaniny patří	E ječmen	A řepa	Ž brambory
5. V lese rozlišujeme	I 5 pater	U 3 patra	E 4 patra
6. Plody dubu se nazývají	V bukvice	B žaludky	V žaludy
7. Les produkuje velké množství	O kyslíku	K oxidu uhličitého	C dusíku
8. Hlavním přenašečem vztekliny je	N vlk	M medvěd	Č liška
9. Pícniny se používají ke	I krmení zvířat	O zpracování na cukr	A snižování úrody
10. Stálí ptáci	CH žíví se semeny	S jsou hmyzožraví	Ů u nás přezimují